



Mikroskop (15. Dezember)


Folgende Aufnahmen wurden mit einem hochauflösenden Elektronenmikroskop gemacht.
Ordne die Zahlen und Buchstaben passend zu.

- | | |
|--|--|
| A: Spaltöffnungen einer Pflanze | B: Stängelquerschnitt einer jungen Linde |
| C: Unreife Fruchtkörper des Löwenzahns | D: Spinne |
| E: Eiskristall | F: Spitze einer Kugelschreibermine |
| G: Brennhaare einer Brennnessel | H: Nadel und Faden |


①



②



③



④



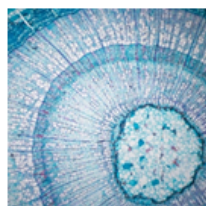
⑤



⑥



⑦



⑧

